


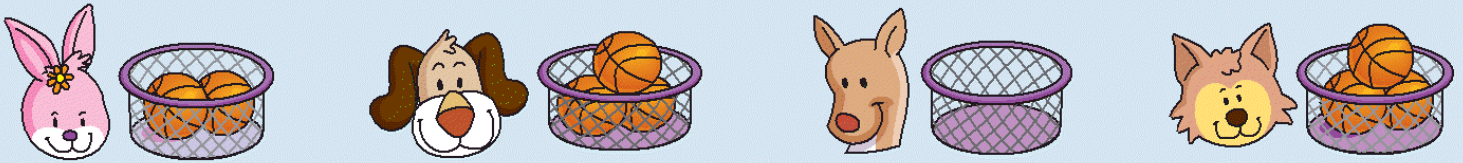
Reconozcamos el número 0

A. Observa y aprende.



A1. ¿Cuántas pelotas hay en cada cesta?


www.Matemática1.com



1. Comenta. ¿Cuántos huevos o manzanas hay?



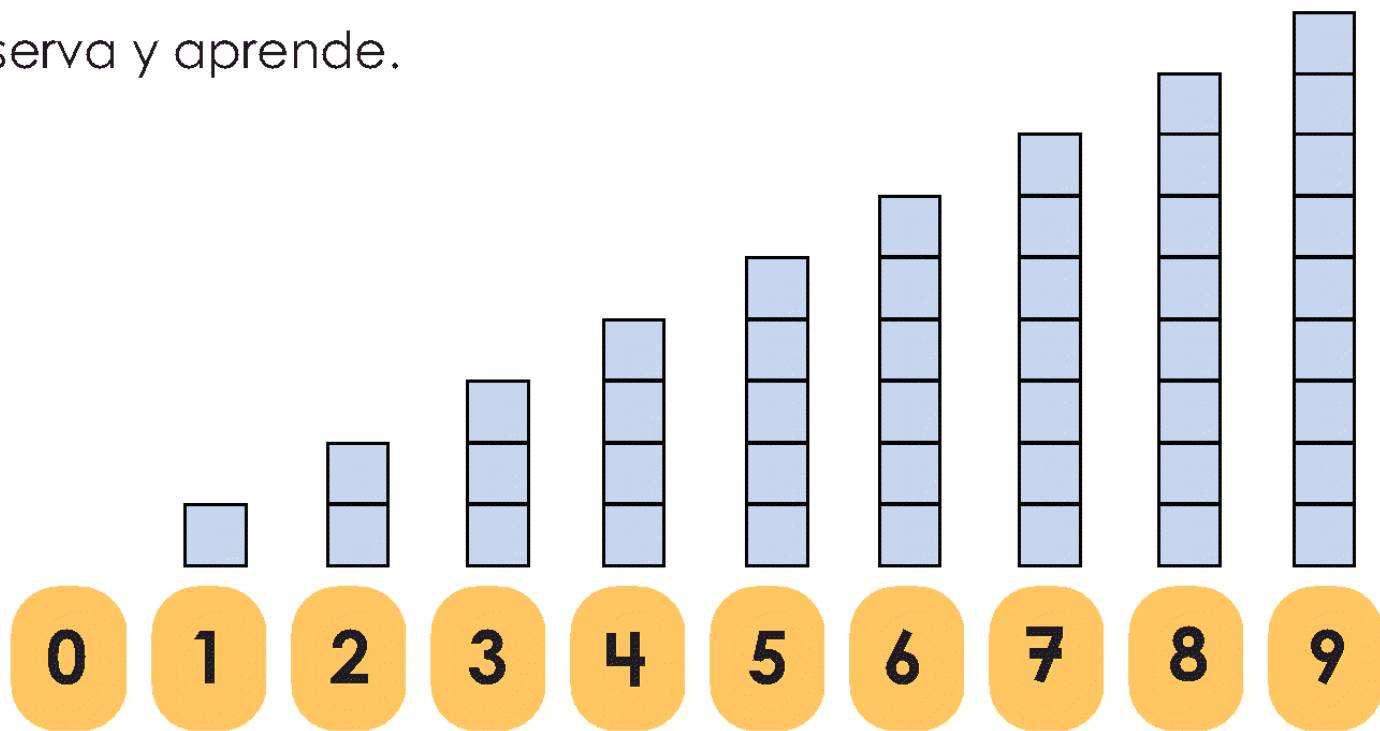
A2. Disminuye un pato cada vez.



0 significa que no hay patos en el lago.




Ordenemos números

A. Observa y aprende.



A1. Cuenta y compara.

www.Matemática1.com



¿ En qué grupo hay mayor número de azulejos?
Hay más en d).

¿ En qué grupo hay menor número de azulejos?
Hay menos en a).

A2. Contesta.

a) ¿ Cúal es el número mayor?

1 y 2 **R: 2**

3 y 6 **R: 6**

5 y 3 **R: 5**

4 y 8 **R: 8**

b) ¿ Cúal es el número menor?

3 y 2 **R: 2**

4 y 7 **R: 4**

8 y 9 **R: 8**

6 y 5 **R: 5**

A3. Ordena los números.

7, 8, 5, 2, 6

a) de menor a mayor.

R: 2, 5, 6, 7, 8

b) de mayor a menor.

R: 8, 7, 6, 5, 2

www.Matematica1.com

Nos divertimos

a) Juega a ordenar las tarjetas.



de menor a mayor



de mayor a menor

b) Juega con tus amigos y amigas. ¿Quién saca el mayor?

